

ZEMĚPIS – 7.A, 7.B

Milí žáci,

tento týden si zopakujte Severní Ameriku, poté si nastudujte novou kapitolu – Střední Amerika. Pracujte s učebnicí, internetem, pokud budete mít chuť a náladu odpočinout si od úkolů, podívejte se na dokument. Odkazy příkládám na závěr, možná najdete i jiné.

Ať se vám práce daří,

Vaše učitelka zeměpisu.

Vypracování úkolu **do 20.3.2020**, kontrola a odevzdání po návratu do školy.



Bc. Eva Šmiráková, smirakova@zsvyhlidka.cz

1. Zopakuj si učivo Severní Amerika – Kanada a USA

2. Vypracuj následující cvičení do školního sešitu, písemně jen odpovědi. Můžeš pracovat s internetem, učebnicí, šk. sešitem.


SEVERNÍ AMERIKA

5. Dopište pod fotografie, co na nich je. Podle polohy zaznačte číslo fotografie do mapy.



6. Vyluštěte doplňovačku.

1. Zemědělským regionem USA je...
2. Nejčastěji zastoupenou rasou v USA je...
3. Častým způsobem obživy lidí na Aljašce je...
4. Největším státem v USA je...
5. Atlanta je středem kosmického...
6. Sídlem Rady bezpečnosti OSN je...
7. Nejbohatším státem USA je...
8. Poloostrov na jihovýchodě USA se nazývá...
9. Turisticky nejpritažlivější částí USA je...



Tajenka:

Co víte o tomto místě?

3. Po zopakování vypracuj následující krátký test. Správné řešení pošlu příští týden.

OPAKOVÁNÍ – SEVERNÍ AMERIKA

Vyberte jednu správnou odpověď.

1. Do Severní Ameriky nepatří poloostrov:

- a) Aljaška
- b) Florida
- c) Yucatán

2. Kanada je členem:

- a) Společenství národů
- b) Britského mezinárodního společenství
- c) Společenství Britů a Kanadčanů

3. Francouzsky se mluví v kanadské provincii:

- a) Alberta
- b) Ontario
- c) Québec



4. Na vlajce USA je:

- a) 14 pruhů a 50 hvězd
- b) 13 pruhů a 50 hvězd
- c) 13 pruhů a 40 hvězd

5. Nej hustěji obydlenými oblastmi USA jsou:


- a) centrální oblasti
- b) Arizona a Florida
- c) pobřežní nížiny a okolí Velkých jezer

6. Největším finančním centrem světa je:

- a) New York
- b) Ottawa
- c) San Francisco

7. Nejbohatším státem USA je:

- a) Arizona
- b) Kalifornie
- c) Texas



8. Aljaška patří:

- a) k USA
- b) ke Kanadě
- c) k Rusku

9. Atlantský a Tichý oceán spojuje:

- a) transkontinentální pacifická dráha
- b) transkontinuální oceánská dráha
- c) kontinentální pacifiková dráha

10. Pro západní pobřeží Tichého oceánu je typický:

- a) kosmický průmysl
- b) letecký a počítačový průmysl
- c) potravinářský průmysl

Doplňte sebehodnocení souhrnného opakování.

Svůj výkon hodnotím	😊	🙂	😐	☹️	😞
	ano	spíše ano	spíše ne	ne	nevím
Byly pro mě úkoly jednoduché?					
Bavily mě úkoly?					
Zlepšil/a jsem se?					

4. Střední Amerika – učebnice 46-48

Nastuduj si kapitolu **Pevninské státy střední Ameriky** z učebnice **str. 46-48**. Při čtení a učení se zaměř na největší stát této oblasti, **Mexiko** (obyvatelstvo, jazyk, povrch, nerostné suroviny, zemědělství, hospodářství, Aztékové, Mayové)

5. Práce s mapou. Tady najdete odkaz na slepou mapu online, kde hledáte státy, hlavní města, nebo vlajky zemí Severní a střední Ameriky.

<https://online.seterra.com/cs/vgp/3015>

Odkazy na videa:

Malé Antily, Karibik <https://www.ceskatelevize.cz/ivysilani/1185966822-na-cestech/207562260120022-na-cestech-po-malych-antilach>

Mexiko <https://www.ceskatelevize.cz/ivysilani/1185966822-na-cestech/212562260120013-na-cestech-po-mexiku/>