

Matematika – 7.A, 7.C – domácí příprava - 1. 4. - 3. 4. 2020

Tento týden začneme novou kapitolu – **ČTYŘÚHELNÍKY**.

V učebnici **Matematika 3 (zelená)** si přečtete kapitolu **4.1 Čtyřúhelníky a rovnoběžníky: str. 39 – 41** a vypracujte níže zadané úkoly a zápis. Jako velký nadpis si napište

ČTYŘÚHELNÍKY. Obrázky **narýsujte tužkou a barevně vyznačte** úhly, názvy stran nebo úhlopříčky. Nezapomeňte napsat datum a celý řádek podtrhnout!

Kontrola zápisu proběhne po příchodu do školy. Na úkolech pracujte postupně, nenechávejte si všechno na poslední chvíli. Ať se vám daří ☺.


V případě potřeby mě kontaktujte na e-mail slupinova@zsvyhlicka.cz nebo slupinova.zsvyhlicka@gmail.com (pokud se domluvíme na videohovoru).

ČTYŘÚHELNÍKY

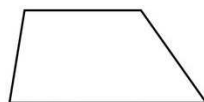
str. 39 (učebnice 3) – **opsat celý** červený rámeček: **Čtyřúhelník**

str. 39 (učebnice 3) – **opsat celý** růžový rámeček


ČTYŘÚHELNÍKY: 1) Různoběžníky



2) Lichoběžníky



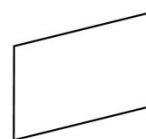
3) Rovnoběžníky: a) pravouhlé – obdélníky



– čtverce



b) kosoúhlé – kosodélníky



– kosočtverce



Př. A / str. 39 (učebnice 3)

Př. 2 / str. 40 (učebnice 3)

Př. 4 / str. 40 (učebnice 3)

Př. 5 / str. 40 (učebnice 3)

Př. 6 / str. 40 (učebnice 3)

Př. 8 / str. 41 (učebnice 3) - nemusíte řešit: a)